

联创世华·内部资料

2019 选调优选笔试先行直播课讲义

行政职业能力测验

优选行测综述

言语理解与表达

判断推理

数量关系

资料分析

联创世华

经典例题 1:

某单位要从机关抽点 6 名女干部，20 名男干部到基层锻炼。其中从事技术工作的女干部和男干部的人数比为 2:7，从事行政工作的女干部和男干部的人数比为 1:3。问从事行政工作的干部共有多少？

- A. 4 B. 8 C. 12 D. 16

知识点一：方程及不定方程

1. 公司小赵要到 60 千米外的培训中心去，开始他以 5 千米/小时的速度步行，后来有辆速度为 18 千米/小时的车把他送到了培训中心，前后共用了 5.5 小时，请问小赵步行的距离是（ ）千米。

- A. 15 B. 20 C. 25 D. 30

2. 一次购买某产品 80 件，则单价为 100 元。若单价每降 1 元，可多销售 4 件。已知减价 5% 后，由于出售的数量增多，仍可获得与减价前同样的利润。那么，这件产品的成本是（ ）元。

- A. 60 B. 75 C. 85 D. 95

3. 超市将 99 个苹果装进两种包装盒，大包装盒每个装 12 个苹果，小包装盒每个装 5 个苹果，共用了十多个盒子刚好装完。问两种包装盒相差多少个？

- A. 3 B. 4 C. 7 D. 13

4. 某单位向希望工程捐款，其中部门领导每人捐 50 元，普通员工每人捐 20 元。某部门所有人员共捐款 320 元，已知该部门总人数超过 10 人，问该部门可能有几名部门领导？

- A. 1 B. 2 C. 3 D. 4

5. 小张的孩子出生的月份乘以 29，出生的日期乘以 24，所得的两个乘积加起来刚好等于 900。问孩子出生在哪一个季度？

- A. 第一季度 B. 第二季度 C. 第三季度 D. 第四季度

6. 某公司有 29 名销售员，负责公司产品在 120 个超市的销售工作。每个销售员最少负责 3 个，最多负责 6 个超市。负责 4 个超市的人最多但少于一半，而负责 4 个超市和负责 5 个超市的人总共负责的超市数为 75 个。问负责 3 个超市的人比负责 6 个超市的人多几个？

- A. 2 B. 3 C. 6 D. 9

7. 某单位为业务技能大赛获奖职工发放奖金，一、二、三等奖每人奖金分别为 800、700 和 500 元，11 名获一、二、三等奖的职工共获奖金 6700 元，问有多少人获得三等奖？

- A. 3 B. 4 C. 5 D. 6

8. 某校组织师生春游，已知有 397 名师生出游，旅游公司有 39 座和 17 座两种客车，问要让所有人都有座位，且客车上没有空座，一共需要几辆车？

- A. 10 辆 B. 11 辆 C. 12 辆 D. 13 辆

9. 小王、小李、小张和小周 4 人共为某希望小学捐赠了 25 个书包，按照数量多少的顺序分别为小王、小李、小张、小周。已知小王捐赠的书包数量是小李和小张捐赠书包的数量之和；小李捐赠的书包数量是小张和小周捐赠的书包数量之和。问小王捐赠了多少书包？

- A. 9 B. 10 C. 11 D. 12

知识点二：设未知数的方式

1. 甲乙两人原有存款数的比是 5:3，如果乙拿出 500 元给甲，那么甲乙两人存款数的比是 2:1。原来甲有存款多少元？

- A. 7500 B. 6000 C. 4500 D. 3000

2. 甲乙两个投资公司共同投资了 A、B 两个项目，甲公司在 A 项目中的投资额是 B 项目的 2 倍，乙公司在 A 项目中的投资额是 B 项目的一半，这两个投资公司在 A 项目的总投资额是 B 项目总投资

额的 1.2 倍，问甲公司总投资额与乙公司总投资额之比为：

- A. 5:3 B. 7:4 C. 9:5 D. 14:9

3. 某单位组建兴趣小组，每人选择一项参加。羽毛球组人数是乒乓球组人数的 2 倍，足球组人数是篮球组人数的 3 倍，乒乓球组人数的 4 倍与其他 3 个组人数的和相等。则羽毛球组人数等于：

- A. 足球组人数的 1.5 倍
B. 篮球组人数的 3 倍
C. 足球组人数与篮球组人数之和
D. 乒乓球组人数与足球组人数之和

4. 某集团有 A 和 B 两个公司，A 公司全年的销售任务是 B 公司的 1.2 倍。前三季度 B 公司的销售业绩是 A 公司的 1.2 倍，如果照前三季度的平均销售业绩，B 公司到年底正好能完成销售任务。问如果 A 公司希望完成全年的销售任务，第四季度的销售业绩需要达到前三季度平均销售业绩的多少倍？

- A. 2.4 B. 3.88 C. 1.44 D. 2.76

5. 某单位组织参加理论学习的党员和入党积极分子进行分组讨论，如果每组分配 7 名党员和 3 名入党积极分子，则还剩下 4 名党员未安排；如果每组分配 5 名党员和 2 名入党积极分子，则还剩下 2 名党员未安排。问参加理论学习的党员比入党积极分子多多少人？

- A. 16 B. 20 C. 24 D. 28

6. 某高校艺术学院分音乐系和美术系两个系别，已知学院男生人数占人数的 30%，且音乐系男女生人数之比为 1:3，美术系男女生人数之比为 2:3，问音乐系和美术系的总人数之比为多少？

- A. 5:2 B. 5:1 C. 3:1 D. 2:1

经典例题 2:

某项目组为了加快进度，决定增加若干成员，其中研发人员增加了 11%，营销人员增加了 6%，管理人员增加了 10%。问项目组原来最少可能有多少人？

- A. 150 B. 160 C. 200 D. 300

知识点：倍数的广泛使用

1. 甲、乙两仓库存货吨数比为 4:3，如果由甲仓库中取出 8 吨放到乙仓库中，则甲、乙两仓库存货吨数比为 4: 5。两仓库原存货总吨数是多少？

- A. 94 B. 87 C. 76 D. 63

2. 甲、乙两个班各有 40 多名学生，男女生比例甲班为 5:6，乙班为 5:4。则这两个班的男生人数之和比女生人数之和：

- A. 多 1 人 B. 多 2 人 C. 少 1 人 D. 少 2 人

3. 某公司去年有员工 830 人，今年男员工人数比去年减少 6%，女员工人数比去年增加 5%，员工总数比去年增加 3 人，问今年男员工有多少人？

- A.329 B.350 C.371 D.504

4. 甲乙共有图书 260 本，其中甲有专业书 13%，乙有专业书 12.5%，那么甲的非专业书有多少本？

- A. 75 B. 87 C. 174 D. 67

5. 两个派出所某月内共受理案件 160 起，其中甲派出所受理的案件中有 17% 是刑事案件，乙派出所受理的案件中有 20% 是刑事案件，问乙派出所在这个月中共受理多少起非刑事案件？

- A. 48 B. 60 C. 72 D. 96

6. 师徒二人负责生产一批零件，师傅完成全部工作数量的一半还多 30 个，徒弟完成了师傅生产数量的一半，此时还有 100 个没有完成，师徒二人已经生产了多少个？

- A. 320 B. 160 C. 480 D. 580

7. 甲、乙、丙、丁四人为地震灾区捐款，甲捐款数是另外三人捐款总数的一半，乙捐款数是另外三人捐款总数的 $\frac{1}{3}$ ，丙捐款数是另外三人捐款总数的 $\frac{1}{4}$ ，丁捐款 169 元。问四人一共捐了多少钱？
 A. 780 元 B. 890 元 C. 1183 元 D. 2083 元

8. 一艘海军的训练船上共有 60 人，其中有驾驶员、船员、见习驾驶员、见习船员、还有一些陆战队员。已知见习人员的总人数是驾驶员和船员总数的四分之一，船员(含见习船员)总人数是驾驶员(含见习驾驶员)总数的 7 倍，则船上有 () 个陆战队员。
 A. 12 B. 15 C. 20 D. 25

经典例题 3:

把下面的六个图形分成两类，使每一类图形都有各自的共同特征或规律，分类正确的一项是()。



- A. ①④⑥, ②③⑤
- B. ①④⑤, ②③⑥
- C. ①⑤⑥, ②③④
- D. ①②④, ③⑤⑥

知识点：图推的最常考点-----

1. 把下面的六个图形分为两类，使每一类图形都有各自的共同特征或规律，分类正确的一项是：



- A. ①③④, ②⑤⑥
- B. ①③⑤, ②④⑥
- C. ①②⑥, ③④⑤
- D. ①④⑥, ②③⑤

2. 把下面的六个图形分为两类，使每一类图形都有各自的共同特征或规律，分类正确的一项是()



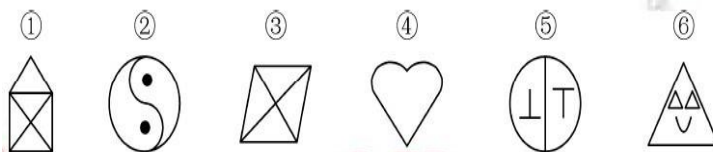
- A. ①②④, ③⑤⑥
- B. ①③⑥, ②④⑤
- C. ①③⑤, ②④⑥
- D. ①②③, ④⑤⑥

3. 把下面的图形分为两类，使每一类图形都有各自的共同特征和规律，分类正确的一项是：



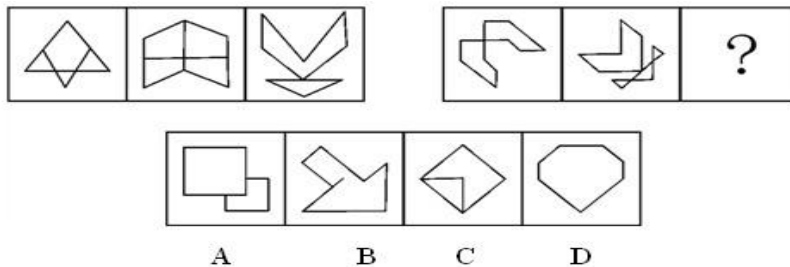
- A. ①②⑥, ③④⑤
- B. ①④⑤, ②③⑥
- C. ①②⑤, ③④⑥
- D. ①②③, ④⑤⑥

4. 正确选项为 ()。

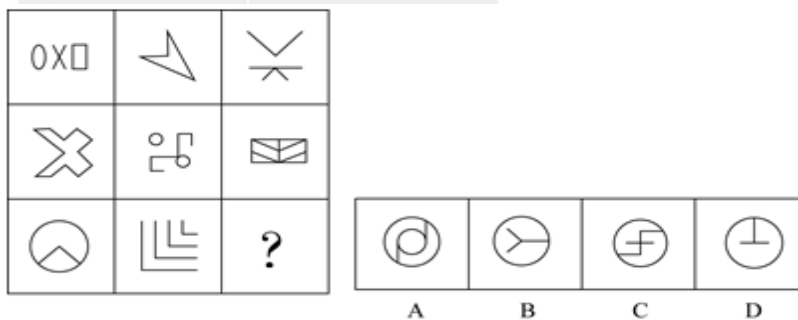


- A. ①③④, ②⑤⑥
- B. ①③⑥, ②④⑤
- C. ①④⑥, ②③⑤
- D. ①③⑤, ②④⑥

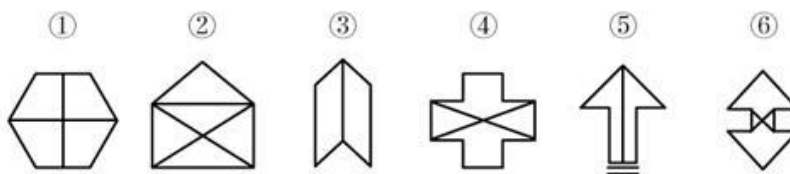
5. 从所给的四个选项中，选择最合适的一个填入问号处，使之呈现一定的规律性：



6. 从所给四个选项中，选择最合适的一个填入问号处，使之呈现一定规律性：

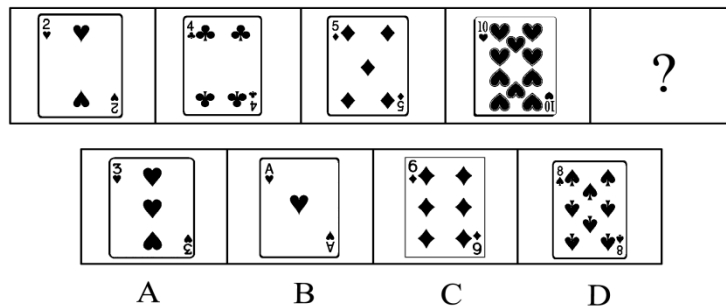


7. 把下面的六个图形分为两类，使每一类图形都有各自的共同特征或规律，分类正确的一项是：



- A. ①④⑥, ②③⑤
- B. ①②③, ④⑤⑥
- C. ①③④, ②⑤⑥
- D. ①③⑤, ②④⑥

8. 正确选项为：



据此可知：

- A. 有一些投资者是商人
- B. 商人对乘船游玩不热心
- C. 一些商人热心乘船游玩
- D. 一些投资者支持沿海工业的发展

例 3. 来自公安机关的资料显示，娱乐圈中有人吸毒，高级知识分子中也有人吸毒，吸毒者中有些人是女性，而抢劫犯中有相当比例是吸毒者。

由此可见（ ）。

- A. 高级知识分子中也有抢劫犯
- B. 抢劫犯中吸毒者占了大多数
- C. 有些抢劫犯可能是女性
- D. 有些抢劫犯不是女性

例 4. 所有来自中国的留学生，都住在校园内；所有住在校园内的学生，都必须参加运动会；有些中国留学生加入了学生会；有些心理专业的学生也加入了学生会；所有心理学专业的学生都没有参加运动会。

由此不能推出以下哪项结论？

- A. 所有中国留学生都参加了运动会
- B. 没有一个心理学专业的学生住在校园内
- C. 有些中国留学生是学心理学专业的
- D. 有些学生会成员没有参加运动会

例 5. 鲁国的平民都信孔子的所有的门徒，但是没有一个诡辩者被鲁国的任何一个平民所信任，鲁国的有些平民崇文尚武。

由此可以推出：

- A. 崇文尚武的都不是诡辩者
- B. 孔子的有些门徒崇文尚武
- C. 崇文尚武的有些人被孔子的门徒所信任
- D. 孔子的门徒都不是诡辩者

所有 A 是 B, 所有 B 是 C。可以推出：

有些 A 是 B, 所有 B 是 C。可以推出：

例 6. 有些艺术家留大胡子，因此，有些留大胡子的人是大嗓门。为使上述推理成立，必须补充以下哪项作为前提？

- A. 有些艺术家是大嗓门
- B. 所有大嗓门的人都是艺术家
- C. 所有艺术家都是大嗓门
- D. 有些大嗓门的人不是艺术家

例 7. 有些高校教师有博士学位，所以，获得博士学位的有些人具有很高的教学和科研水平。为保证以上论证成立，以下哪项必须为真？

- A. 所有具有很高的教学和科研水平的人都是高校教师
- B. 所有高校教师的教学和科研水平都很高
- C. 有些高校教师的教学和科研水平很高

D. 有些具有很高的教学和科研水平的高校教师没有获得博士学位。

例 8. 某些金融学家是数学系高材生，因此某些数学系高材生是对金融行业运营和管理颇有研究者。

以下哪项如果为真，能够确保上述论断的可靠性？

- A. 所有对金融行业运营和管理颇有研究者都是金融学家
- B. 某些金融学家专攻金融学单一领域，对金融行业的运营和管理没有太多研究
- C. 所有金融学家都对金融行业运营和管理颇有研究
- D. 某些对金融行业运营和管理颇有研究的金融学家不是数学系高材生

题型讲解一：片段阅读

1. 明恩溥在《中国人的素质》里所指出，中国政治家的生活和国事文件，好像卢梭的忏悔一样，充满着最崇高的情感和最卑鄙的行为。他杀了一万个人然后引述孟子的一段话，讲人的生命是神圣的。他把修河堤的钱装进自己的腰包，结果使全省惨遭洪水之害，然后他再悲叹耕者失其田。

上述句中表述的主要意思是（ ）。

- A. 中国人表里不一
- B. 中国人很虚伪
- C. 中国人喜欢引经据典
- D. 中国政治家很虚伪

2. 如果没有闪电，人类将失去一位勤劳的“清洁工”。闪电交作时，大气中的部分氧气被激发成臭氧，稀薄的臭氧不但不臭，而且能吸收大部分宇宙射线，使地球表面的生物免遭紫外线过量照射的危害。闪电过程中产生的高温，又可杀死大气中 90% 以上的细菌和微生物，从而使空气变得更加纯净且清新宜人。

这段文字主要介绍：

- A. 闪电形成的机制
- B. 宇宙射线对人类的危害
- C. 臭氧对人类的贡献
- D. 闪电对地球的保护作用

3. “真实”是指事实、真理，它可以用于客观事物：自然、社会、个人；它的反面是虚假，是不真。“真诚”也是“真”，但是指主观意识领域里的真，它仅涉及人，而且是主体的个人，它强调的是向内反省，要求的是忠实于自己，是不欺己、不欺心，这就好像内心有一个法官在检查所有的意识和念头，看它们是真的发自内心，还是一些浮在表层的托辞和借口。彻底的真诚要求一个人能鉴别和杜绝一切有意无意哄骗自己的念头，在行为上就反映为：言其真心所欲言，行其真心所欲行。

这段文字意在说明（ ）。

- A. “真实”与“真诚”的区别
- B. “真诚”的本质含义及外部表现
- C. “真诚”行为属于主观表现因而难以鉴别
- D. 如何使“真实”与“真诚”实现内在统一

4. 在一个环境和经济都面临挑战的高度技术化的时代，提高我们的理解能力和辨析科学证据与科学观点的能力至关重要。而要想做到这一点，出路之一就是需要来自自然科学和人文社会科学不同领域的

专业人士的鼎力合作。比如，对于像地球气候变化这类复杂的问题，需要科学家去挖掘并阐述其根本原因。但与此同时，人文学科与社会科学工作者也同样需要去评估气候变化之于人口与社会的影响，而新闻工作者则需要把这类信息完整地传递给社会大众。在他们的共同努力下，才能把科学的新发现及其与社会相关的联系向社会大众解释得更好更清楚。

这段文字意在强调：

- A. 提高公众理解科学能力的途径
- B. 提高大众理解科学能力的意义
- C. 不同领域专家分工协作的方式
- D. 不同领域专家分工协作的目的

5. 在现代军事中，战略威慑的地位越来越重要。战略威慑的实力，由常备军和后备力量两个部分组成，要确保这两支力量正常运转和发展，除了国民经济动员外，还需要一种无形力量的支持。这正是信息化战争中，新闻舆论战所承担的战略任务。因为没有媒体的宣传，别人就不可能全面感受到你的“强大”，其威慑作用也会大打折扣。从海湾战争到伊拉克战争，美国都是借助媒体挥舞“威慑大棒”，战前就发动大规模的舆论攻势，使对方先失一局。可见，通过舆论战抢占话语权，先发制敌，形成对己有利的战争环境，有助于实现战略目标。

这段文字意在说明：

- A. 新闻舆论战对战略威慑至关重要
- B. 舆论战成为打赢信息化战争的重要手段
- C. 大规模舆论攻势成为现代战争的前哨战
- D. 媒体宣传是联结常备军与后备力量的纽带

6. 在中国民间音乐艺术的历史发展中，戏曲代表了它的最高阶段。因为这一品种是文学、音乐、舞蹈、杂技、武术、美术等类别高度融合的产物。在融合的过程中，音乐始终占有突出的位置，并发挥了最重要的作用。在民间戏曲中，唱腔、伴奏、音乐不仅是塑造人物推出情节的重要手段，而且是区别不同地方剧种声腔的根本标志。戏曲如果脱离了音乐，它的中国化特色就不复存在了。

这段文字意在说明（ ）。

- A. 中国民间音乐艺术的历史发展
- B. 民间戏曲的特点与发展历史
- C. 民间戏曲发展过程中音乐的作用
- D. 民间戏曲的中国化特色

7. 对微生物进行科学研究，需要超出常规的研究思路与工具。说到工具，很多人肯定会首先想到显微镜。但显微镜只适合观察，如果要进行生化分析的话，琼脂的作用更加重要。如果你去过微生物实验室，你会发现大家最常用的实验工具就是培养皿，里面铺着一层富含营养的琼脂。每一个细菌都能在琼脂表面单独长成一个肉眼可见的菌群。每个菌群里含有成千上万个完全一样的细菌，这在生物学术语里叫做一个“克隆”。因为琼脂是半固态的，细菌的位置被固定住了，无法在菌群之间自由往来，这就等于将一个细菌克隆并扩增到足够大的量，却没有遭受其他细菌的污染，只有这样，科学家们才能对其进行生化分析。

这段文字主要说明：

- A. 在微生物研究中显微镜的作用有限
- B. 琼脂在生化分析中发挥着重要作用
- C. “克隆”技术使生化分析更具操作性
- D. 在实验室里科学家是如何进行生化分析的

8. 黏土看上去似乎是一种肥沃度差、由多种矿物质组成的混合物，但却可能是地球生命的起源地。在模拟古代的海水中，黏土会形成水凝胶——由大量可吸收液体的微小空间构成（像海绵一样）。过去几十亿年里，被禁锢在这些空间里的化学物可能发生了复杂的反应，从而形成了蛋白质、脱氧核糖核酸以及最终生成活细胞的各种系统。黏土形成的水凝胶可能对上述化学过程起到了禁锢和保护的作用，直至发育出将活细胞包裹住的细胞膜为止。

这段文字意在说明：

- A. 黏土富含生命需要的营养物质
- B. 水凝胶对生化反应的保护作用
- C. 黏土在地球生命起源中的作用
- D. 地球生命也许最初发源于黏土

9. 由细颗粒物造成的灰霾天气对人体健康的危害甚至要比沙尘暴更大。粒径 10 微米以上的颗粒物，会被挡在人的鼻子外面；粒径在 2.5 微米至 10 微米之间的颗粒物，能够进入上呼吸道，但部分可通过痰液等排出体外，另外也会被鼻腔内部的绒毛阻挡，对人体健康危害相对较小；而粒径在 2.5 微米以下的细颗粒物吸入人体后会进入支气管，干扰肺部的气体交换，引发包括哮喘、支气管炎和心血管病等方面的疾病。这些颗粒还会进入血液，其中的有害气体、重金属等溶解在血液中，对人体健康的伤害更大。

这段文字意在说明（ ）。

- A. 重金属等会溶解于血液中危及人体健康
- B. 灰霾天气中的细颗粒物对人体健康伤害大
- C. 不同粒径的颗粒物对人体健康的不同影响
- D. 灾害天气中各自尺寸颗粒物的致病机理

10. 审慎原则并不是不尊重科学，而是对科学应用的务实态度。科研成果的取得及其社会认可，往往代表着巨大的经济利益甚或科学家的终身成就，这就很难保证科学家不会放松科学原则要求而违规；科研成果的社会化往往与企业利益相连，企业逐利时难免会刻意隐瞒危害；由于科研的未知性因素和危险的发现难度及时间跨度过大，即使科学家和企业都秉承道德原则，也很难保证能发现科研成果的潜在危害。

这段文字强调：

- A. 对科学成果的应用应当秉承谨慎态度
- B. 科研成果应用的潜在危险无法预测
- C. 科学附带的经济效益腐化了科学精神
- D. 道德原则是科学研究首要遵循的原则

11. 现代农业的发展不能脱离生态安全和产品安全两个基本要求，因此，农业污染防治应作为现代农业

发展的重要任务之一。不同于工业污染和城市污染，农业污染涉及面广而隐蔽性强，评估难度大，不适合建立惩罚型机制。同时，由于农民收入水平相对较低，不可能进行“污染收费”。所以说，必须建立激励型经济补偿机制，从根本上提高农户防控污染的积极性。这种补偿机制实质上是对生态建设与保护所付出的成本（包括放弃发展机会的损失）进行补偿。

对这段文字的主旨概括最准确的是：

- A. 农业污染防治是现代农业发展的重要任务
- B. 治理农业污染与工业污染的方法有所不同
- C. 转变农业发展模式是治理农业污染的前提
- D. 现代农业污染防治应树立激励补偿型理念

12. 相对于政府公关，民间外交更具柔性，传播内容和载体更易于被接受，更能达到“润物细无声”的效果。当前，越来越多外国民众来华参观访问，中国越来越多的公民走出国门，网络媒体的发展也使普通公众更易影响舆论。因此要因势利导，通过新闻媒体、社区组织、民间社团等渠道，引导国内公众主动配合公共外交，积极传播中国的文化传统和价值理念，维护国家形象。

这段文字意在强调：

- A. 民间外交与政府公关的差别
- B. 民间外交在国际交往中的意义
- C. 应引导民间外交积极发挥作用
- D. 媒体应在国际交往中正确引导公众

13. 随着我国对外开放深化和世界经济全球化加速，国际经济环境因素对我国宏观经济运行稳定性的影响越来越大，需要我们密切关注，谨慎对待。目前国际市场石油价格、粮食和食用油价格上涨对我国国内市场价格的影响越来越大，成为造成国内市场相关商品价格上涨的不可忽视的因素。这种输入型成本推动造成的影响，将随着我国对国外石油等重要资源性商品依赖程度的上升，而变得越来越大，可能成为失去价格上涨的长期因素，对此我们必须更加重视。

这段文字意在说明：

- A. 我国输入型成本将随全球化程度的加深不断增高
- B. 我国对外依赖型经济模式是价格上涨的原因之一
- C. 国际市场价格对我国国内市场价格的影响很大
- D. 要重视国际经济对我国经济稳定性的影响

14. 决定健康的因素是多样的，经济学家常使用健康生产函数来表示健康状况与投入要素（包括健康禀赋、医疗保健、生活方式、社会经济状况、环境等）之间的关系。其中，健康禀赋差异是先天的、不可避免的。从宏观上分析区域之间的健康差异要从收入、教育和医疗保健利用等方面的差异着眼。

这段文字意在强调：

- A. 人口健康禀赋差异是不可改变的
- B. 分析人口健康应着眼非先天因素
- C. 区域间存在不同的健康生产函数
- D. 投入要素决定了区域间健康差异

15. 铁路货运改革不仅是铁路走向市场的关键一步，更是艰难的一步。铁路货运长期存在手续繁杂、组织脱节、收费混乱和运力分配不够透明等问题，涉及机构多、人员杂，成了一本算不清、改不动的烂账。让习惯了冷脸子、批条子的“铁老大”，转型为热心肠、跑腿忙的“店小二”，让装进私人口袋的公家利益回流，实非易事。也因此，改变“车皮难求”，不仅是运力挖潜的问题，更是触及既有利益格局的命题。不仅需要坚不可摧的改革决心，更需要攻城拔寨、雷厉风行的革命手段，需要改革机构设置、再造工作流程、创新考核机制等一系列内部大手术。

这段文字主要讲述的是：

- A. 铁路货运存在的问题
- B. 铁路货运改革面临的难题
- C. 铁路货运改革难以推行的客观原因
- D. 铁路货运改革必须从内部开始

题型讲解二：(A/B) 形式增长率的计算

1.

2011 年我国规模以上电子信息制造业发展状况

	单位	完成状况	同比增速 (%)
主营业务收入	亿元	74909	17.1
利润总额	亿元	3300	16.8
税金总额	亿元	1245	31
从业人员	万人	940	6.8
固定资产投资	亿元	8183	56
电子信息产品进出口总额	亿美元	11292	11.5
其中：出口额	亿美元	6612	11.9
进口额	亿美元	4680	11

2011 年，我国规模以上电子信息制造业人均创造利润约比上年增长？

- A. 9%
- B. 11%
- C. 15%
- D. 17%

2. 2014 年，新登记注册外商投资企业 3.84 万户，同比增长 5.76%。投资总额 2763.31 亿美元，同比增长 15.0%；注册资本 1796.39 亿美元，同比增长 23.87%。

2014 年，新登记注册外商投资企业户均注册资本约比上年同期增长：

- A. 17%
- B. 12%
- C. 8%
- D. 4%

3. 2013 年，全国商品房销售面积 130551 万平方米，比上年增长 17.3%。商品房销售额 81428 亿元，增长 26.3%，

2013 年全国商品房单位面积的平均销售价格约比上年增长了（ ）。

- A. 4.4%
- B. 7.7%
- C. 11.1%
- D. 15.5%

4. 2015 年 1-5 月，B 区规模以上文化创意产业完成收入 46.2 亿元，比上年同期增长 10.8%，比 1-4 月增幅收窄 0.8 个百分点，从业人员平均人数 1.3 万人，比上年同期下降 2.4%。

2015 年 1—5 月 B 区规模以上文化创意产业从业人员人均完成收入约比上年同期增长：

- A. 2.5%
- B. 8.4%
- C. 10.8%
- D. 13.4%